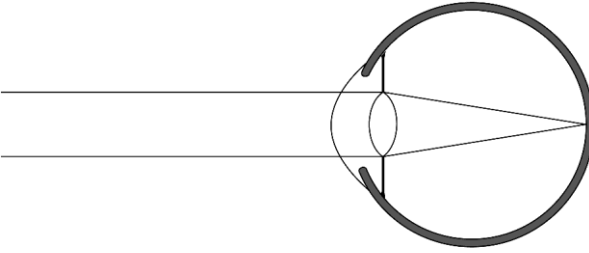
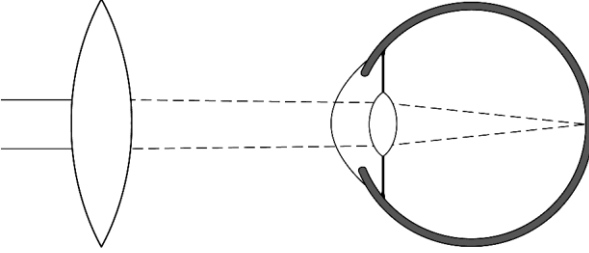
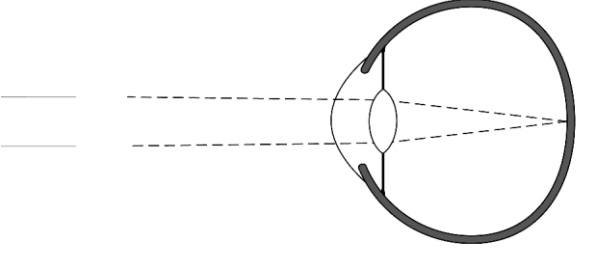
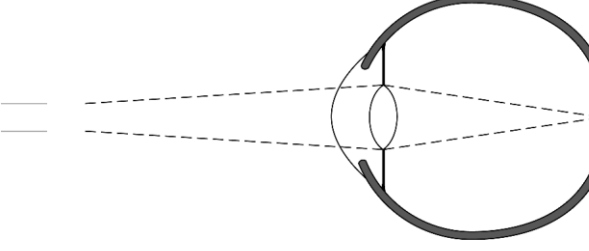


Sehfehler

Fülle die Tabelle aus. Zeichne in die jeweiligen Abbildungen die Linse ein, mit der der Augenfehler korrigiert wird.

	<p>Das ist ein normalsichtiges Auge. Auf der Netzhaut wird ein verkleinertes, seitenverkehrtes und auf dem Kopf stehendes Bild abgebildet.</p>
	<p>Das ist ein _____. Die Linse ist nicht mehr elastisch und kann sich nicht mehr so stark krümmen. Deshalb können nahe Gegenstände nicht mehr deutlich gesehen werden. Behoben wird der Fehler durch eine Sammellinse.</p>
	<p>Dies ist ein _____. Der Augapfel ist zu _____. Korrigiert wird der Augenfehler mit einer _____.</p>
	<p>Dies ist ein _____. Der Augapfel ist zu _____. Korrigiert wird der Augenfehler mit einer _____.</p>