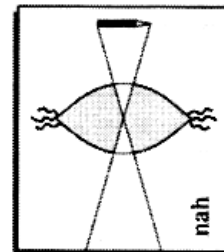
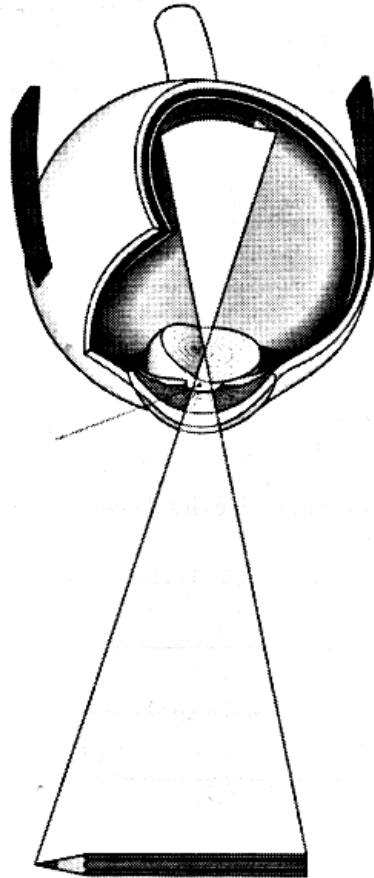


So entstehen Bilder in unserem Auge

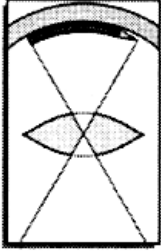


Gegenstände, die von _____
 getroffen werden, _____ es in
 alle Richtungen.

Bei _____ Licht ist die
 _____ klein, bei wenig
 _____ ist sie _____.



Die _____ des Auges kann sich _____ oder
 schwächer krümmen. Sie passt sich so der _____ des
 _____ an.



Ein Teil dieses Lichts trifft unser
 _____. Die Linse
 erzeugt durch _____
 des Lichts ein Bild des Gegenstan-
 des auf der _____.
 Das _____ ist umge-
 kehrt, _____ und _____.

